


Quel est le prix à payer ?




7,64€



3,32€

Quel est le prix à payer ?




24,65€




32,42€

Quel est le prix à payer ?



16,84€



256,18€



Pour son goûter, Isabelle achète :

- 1 grand café à 2,27€
- 1 donut à 3,56€

Combien va-t-elle payer ?



Dans le sac de courses de  
Lisa, il y a :

- 1 pomme à 0,67€
- 1 bouteille d'eau à 1,12€
- 1 salade à 3,22€
- 1 pain à 2,42€

Quel est le montant du sac ?



Pour préparer une salade de fruit, Benoît achète :

- 1 orange à 2,13€
- 1 grappe de raisin à 4,73€
- 1 pastèque à 3,16€
- 1 banane à 0,56€

Combien lui coûte sa salade de fruits ?



Pour son repas, Aurélien achète :

- 1 bouteille d'eau à 0,84€
- 2 tomates à 0,56€
- 1 carotte à 1,26€
- 1 salade à 5,72

Quel est le prix du repas  
d'Aurélien ?